



ΕΚΣΤΡΑΤΕΙΑ ΚΑΤΑΓΡΑΦΗΣ ΤΗΣ ΠΑΓΚΟΣΜΙΑΣ ΦΩΤΟΥΡΥΠΑΝΣΗΣ

16-28 Μαρτίου 2009

Περισσότεροι από τους μισούς κατοίκους της Γης υπολογίζεται ότι θα ζουν σε πόλεις όπου το φως των πόλεων θα καλύπτει τους νυχτερινούς ουρανοί και το φως των άστρων θα χαθεί για πάντα από τις πόλεις.

Τώρα μπορείτε να συμμετέχετε και εσείς στην εκστρατεία της καταγραφής της Παγκόσμιας φωτορύπανσης. Η διαδικασία είναι πολύ απλή.

Για να κάνετε την καταγραφή χρειάζεστε:

1. την γεωγραφική σας θέση την οποία μπορείτε να την βρείτε με μια συσκευή GPS ή ένα χάρτη που έχει γεωγραφικό μήκος και πλάτος. Μπορείτε επίσης να εντοπίσετε την θέση σας χρησιμοποιώντας το www.maporama.com ή το www.itouchmap.com
2. Να βρείτε τον αστερισμό του Ωρίωνα (μετά τις 7μμ) Περιμένετε τουλάχιστον 10 λεπτά να προσαρμοστούν τα μάτια σας στο σκοτάδι.
3. Να προσδιορίσετε την φωτορύπανση στην περιοχή σας από τους πίνακες που σας δίνουμε. Χρησιμοποιείστε ένα φακό με κόκκινο φως (μπορείτε να προσθέσετε μια κόκκινη ζελατίνα μπροστά). Για να κάνετε την καταγραφή σας. Το λευκό φως εμποδίζει την προσαρμογή σας στο σκοτάδι.
4. Να καταγράψετε τις μετρήσεις σας στο ειδικό φυλλάδιο. Μπορείτε να κάνετε πολλαπλές καταγραφές από διαφορετικές περιοχές (μικρότερη απόσταση παρατήρησης 1 χιλιόμετρο από την προηγούμενη)
5. Να καταθέσετε τις μετρήσεις σας στην ιστοσελίδα: <http://www.globe.gov/GaN/report.html>
6. Να συγκρίνετε τις μετρήσεις σας με τους χιλιάδες άλλους παρατηρητές σε ολόκληρο τον κόσμο

Το Μέγεθος ή Βαθμός Λαμπρότητας Αστήρα είναι ένας όρος που χρησιμοποιούν οι αστρονόμοι για να περιγράψουν την φωτεινότητα ενός αντικειμένου. Ο Ίππαρχος είχε διαμορφώσει μια κλίμακα μέτρησης της λαμπρότητας των άστρων το 150 π.Χ. σε έξι κατηγορίες με τα φωτεινότερα αστέρια να έχουν το χαρακτηρισμό 1ου βαθμού και τα πιο αμυδρά 6ου βαθμού

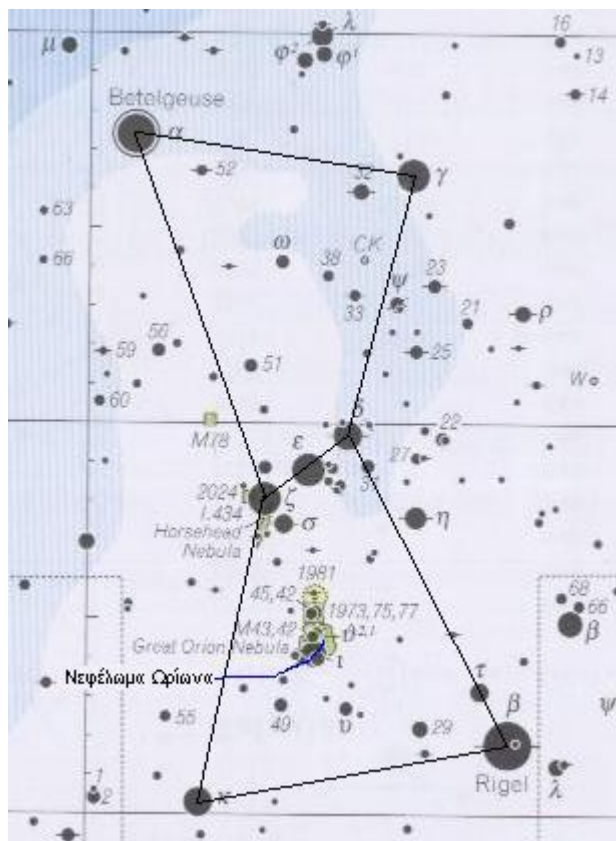
Οι αστρονόμοι σήμερα χρησιμοποιώντας ειδικά όργανα για να μετρήσουν την αστρική φωτεινότητα έχουν τελειοποιήσει την κλίμακα επεκτείνοντας την αναγνωρίζοντας μεγέθη μικρότερα του 1ου και μεγαλύτερα του 6ου. Ο Σίριος, το φωτεινότερο αστέρι στον ουρανό έχει μέγεθος -1,4 ενώ τα μεγαλύτερα τηλεσκόπια βλέπουν περισσότερο από 25ου βαθμού. Το ανθρώπινο μάτι βλέπει άστρα μέχρι του 6ου το πολύ 7ου μεγέθους χωρίς την χρήση κάποιου μέσου

Ποιος είναι ο Ωρίωνας;

Ο Ωρίωνας είναι ένας αρκετά εντυπωσιακός αστερισμός καθότι αποτελείται από

αρκετά αστέρια μεγάλης φωτεινότητας. Αυτό έχει σαν αποτέλεσμα ο Ωρίωνας να είναι από τους λίγους αστερισμούς που μπορούν να γίνουν ορατοί αρκετά καλά ακόμα και μέσα από την φωτορύπανση της πόλης. Ο Ωρίωνας είναι χειμερινός αστερισμός, δηλαδή είναι καλύτερα ορατός τους χειμερινούς μήνες. Βέβαια, από το Σεπτέμβριο αρχίζει και γίνεται ορατός τα ξημερώματα, ενώ πρέπει να φτάσει ο Μάιος για να χαθεί οριστικά πριν την δύση του ηλίου. Το σχήμα του Ωρίωνα είναι σαν κλεψύδρα. 7 είναι τα φωτεινότερα αστέρια του Ωρίωνα που οριοθετούν και το σχήμα της κλεψύδρας ενώ και τα 7 είναι αρκετά φωτεινά ώστε να είναι ορατά ακόμα και μέσω φωτορύπανσης. Τα 4 από τα 7 αστέρια είναι στις 4 γωνίες της νοητής κλεψύδρας ενώ τα υπόλοιπα 3 είναι στο κέντρο και σε μικρή απόσταση μεταξύ τους με αποτέλεσμα να φαίνονται σαν ζώνη. Η ζώνη αυτή, είναι η λεγόμενη ζώνη του Ωρίωνα. Φυσικά υπάρχουν πολλά αμυδρότερα αστέρια στον αστερισμό. Ανάμεσα στα αστέρια της ζώνης και τα δύο αστέρια της κάτω πλευράς (αυτής που είναι ποιο κοντά προς τον ορίζοντα) της κλεψύδρας θα παρατηρήσετε πολλά μαζεμένα αστέρια σε έναν σημείο που 'θολώνει' λίγο. Στο σημείο αυτό βρίσκεται το νεφέλωμα του Ωρίωνα (Great Orion Nebula). Πρόκειται για ένα από τα εντυπωσιακότερα νεφελώματα του ουρανού, που χρειάζεται βέβαια τηλεσκόπιο για να γίνει ορατό. Δυστυχώς, η φωτορύπανση αυτή τη φορά αποτελεί ανασταλτικό παράγοντα και ακόμα και αν κοιτάξετε το νεφέλωμα μέσα από κάποιο τηλεσκόπιο στην πόλη, θα δείτε πολύ λιγότερα (και λιγότερο εντυπωσιακά) από ότι αν ήσασταν στην επαρχία. Τον Δεκέμβριο, ο Ωρίωνας ανατέλλει γύρω στις 7 το απόγευμα οπότε μέχρι τις 9 είναι σε ικανοποιητικό ύψος παρατήρησης στον νοτιοανατολικό ουρανό με τάση να ανεβαίνει συνέχεια αλλά παραμένει πάντα προς τη νότια πλευρά του ουρανού. Γύρω στις 2 τα ξημερώματα φτάνει στο ζενίθ και αρχίζει πάλι και χαμηλώνει προς τα νοτιοδυτικά.

Τι είναι η φωτορύπανση;




Η φωτορύπανση είναι φωτισμός του νυχτερινού ουρανού που προκαλείται από τεχνικές πηγές φωτός από το έδαφος (Δημοτικός φωτισμός, πινακίδες κλπ). Η αύξηση της οφείλεται στην πληθυσμιακή αύξηση, εφόσον οι πόλεις και τα περίχωρα τους μεγαλώνουν τόσο και οι ανάγκες για φωτισμό. Οι επιπτώσεις του αλόγιστου και χωρίς σχεδιασμό φωτισμού έχει αντίκτυπο όχι μόνο εξαφάνιση των άστρων από τον νυχτερινό ουρανό αλλά και σε επίπεδα οικολογίας και βιολογίας.

Κατεβάστε το έντυπο παρατήρησης και το φυλλάδιο λαμπρότητας αστερών, εκτυπώστε τα και καταγράψτε τις παρατηρήσεις σας.

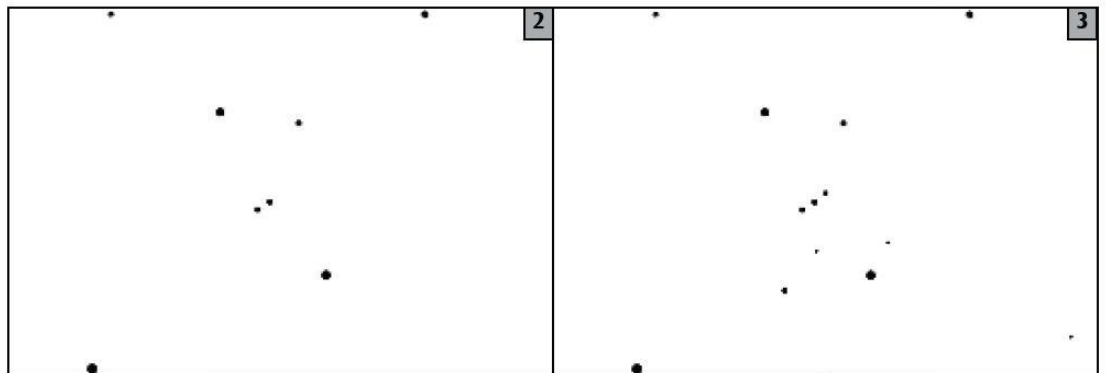


ΠΙΝΑΚΑΣ ΛΑΜΠΡΟΤΗΤΑΣ ΑΣΤΕΡΩΝ




Δεν φαίνεται ο Ωρίωνας επειδή είναι πίσω από τα σύννεφα

Φαίνονται μόνο ένα με δύο αστέρια του Ωρίωνα




Φαίνονται δύο αστέρια της ζώνης του Ωρίωνα

Φαίνονται τρία αστέρια της ζώνης του Ωρίωνα



Φαίνονται τέσσερα αστέρια στην ζώνη του Ωρίωνα

Φαίνονται έξι αστέρια στην ζώνη του Ωρίωνα και ίσως να διακρίνεται και το σπαθί του



Φαίνονται πολλά αστέρια στην ζώνη του Ωρίωνα και το σπαθί του φαίνεται καθαρά

Δεν μπορείτε να μετρήσετε τόσα πολλά αστέρια!



Φυλλάδιο Παρατήρησης

Ημερομηνία: _____ 2009 (16/2-28/3)

Ωρα Παρατήρησης: ____ : ____ μ.μ. (Τοπική Ώρα) Χώρα: Greece

Γεωγραφικό Πλάτος (Lat): ____ μοίρες ____ λεπτά ____ δευτ. Βόρεια


Γεωγραφικό Μήκος (Lon): ____ μοίρες ____ λεπτά ____ δευτερόλεπτα Ανατολικά

Σχόλια για την τοποθεσία (π.χ. Υπάρχει μία λάμπα φωτισμού 50 μέτρα μακριά)

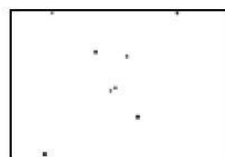
Πίνακες Μεγέθους: Ταιριάζτε τον ουρανό σας με έναν από τους πίνακες μεγέθους:




Ολική Νέφωση




1ου Μεγέθους




2ου Μεγέθους




3ου Μεγέθους




4ου Μεγέθους



5ου Μεγέθους



6ου Μεγέθους



7ου Μεγέθους

Υπολογίστε την νέφωση του ουρανού

_____ Καθαρός _____ Νεφοκάλυψη $\frac{1}{4}$ του ουρανού

_____ Νεφοκάλυψη $\frac{1}{2}$ του ουρανού _____ Νεφοκάλυψη $> \frac{1}{2}$ του ουρανού

Τώρα μπείτε στην ιστοσελίδα www.globe.gov/gan και πατήστε στο κουμπί REPORT για να περάσετε τις μετρήσεις σας. Σε περίπτωση που δυσκολεύεστε μπορούμε να το κάνουμε για εσάς στείλτε μας φαξ στο 00302825083274. Επίσης μπορείτε να επισκεφτείτε το www.darksky.gr για να μάθετε περισσότερα για την φωτορύπανση.